

Adı :
Soyadı :
Sınıfı :


Matematik-2

İleriye ve Geriye Ritmik Sayma-1



Bilgi: Belirli bir kurala göre sayı aralıklarını deęiřtirmeden ileri veya geri saymaya **ritmik sayma** denir.

Ařaęıdaki elmaları ileriye doęru birer ritmik sayarak sayısını altlarına yazalım.



Ařaęıda belirtilen sayılardan bařlayarak ileriye ve geriye doęru birer ritmik sayarak rnekteki gibi yazalım.

Geriye ← → İleriye

7	8	9	10	11	12	13	14	15	16	17	18
			45								
					79						
				93							


Adı :
Soyadı :
Sınıfı :

Matematik-2

İleriye ve Geriye Ritmik Sayma-2



Aşağıdaki kirazları ileriye doğru ikişer ritmik sayarak sayısını altlarına yazalım.



Aşağıdaki sayma tablosunda 100'den başlayarak geriye doğru ikişer ikişer sayalım. Sayarken söylediğimiz sayıları kırmızıya boyayalım.

100	99	98	97	96	95	94	93	92	91
90	89	88	87	86	85	84	83	82	81
80	79	78	77	76	75	74	73	72	71
70	69	68	67	66	65	64	63	62	61
60	59	58	57	56	55	54	53	52	51
50	49	48	47	46	45	44	43	42	41
40	39	38	37	36	35	34	33	32	31
30	29	28	27	26	25	24	23	22	21
20	19	18	17	16	15	14	13	12	11
10	9	8	7	6	5	4	3	2	1

Adı :
Soyadı :
Sınıfı :

Matematik-2

İleriye ve Geriye Ritmik Sayma-3



Aşağıdaki parmakları ileriye doğru beşer ritmik sayarak eksik bırakılan sayıları yazalım.



Aşağıda belirtilen sayılardan başlayarak ileriye ve geriye doğru beşer ritmik sayarak örnekteki gibi yazalım.

Geriyeye ← → İleriye

20	25	30	35	40	45	50	55	60	65	70	75
							40				
					35						
								85			

Aşağıdaki beşer ritmik saymalarda verilemeyen sayıları yazalım.

45	50		60			75	
		20	25				45
35					60		
							100

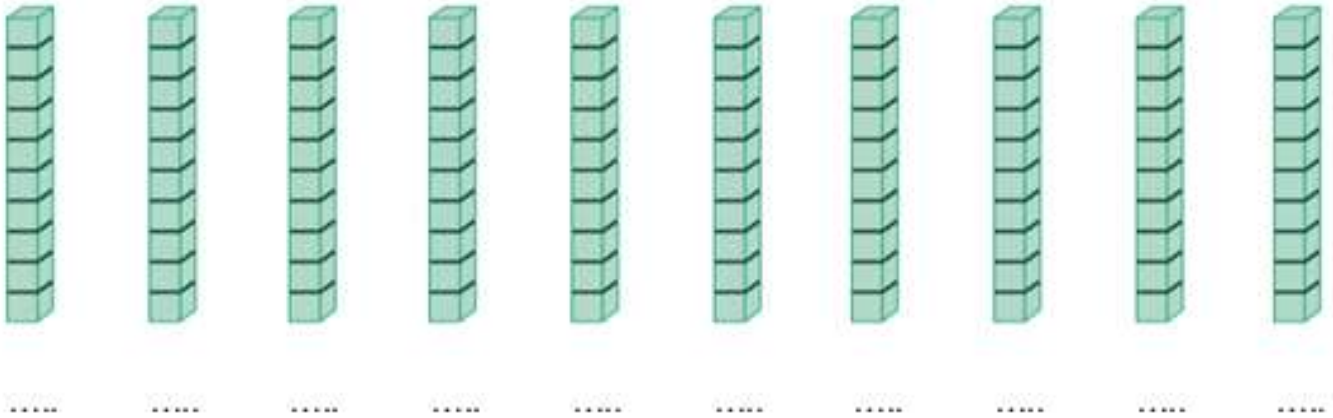
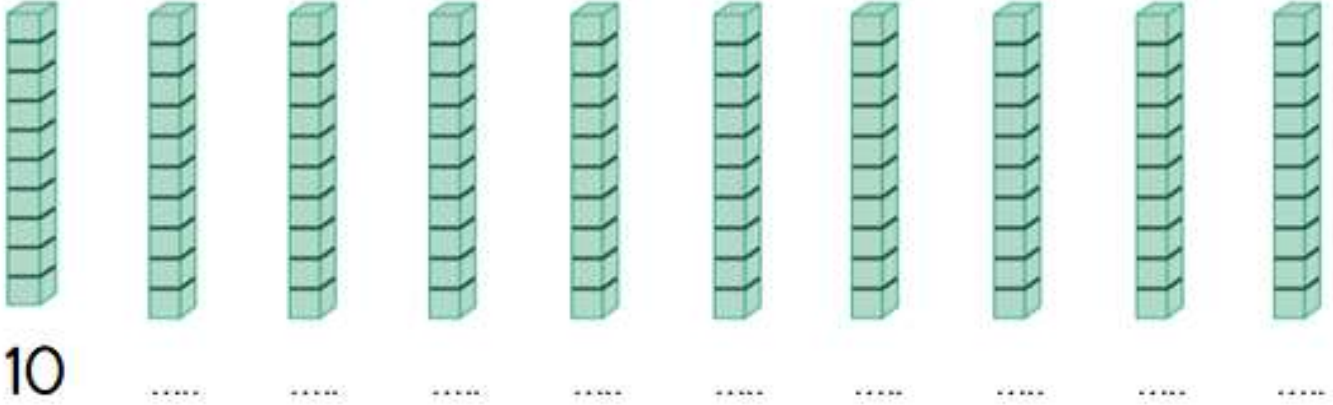
Adı :
Soyadı :
Sınıfı :

Matematik-2

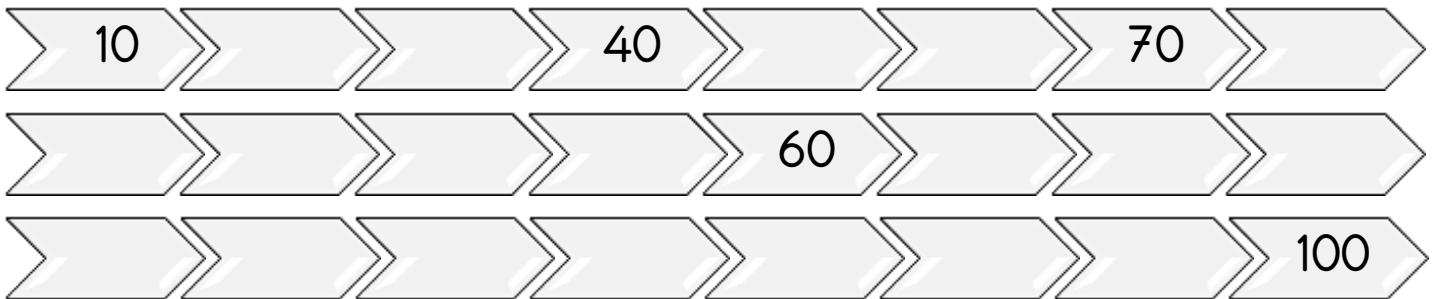
İleriye ve Geriye Ritmik Sayma-4



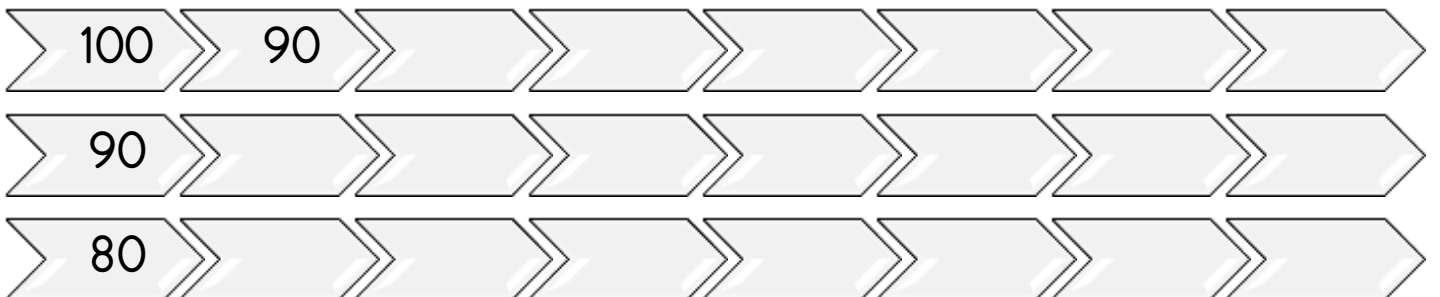
Aşağıdaki sayı bloklarını ileriye doğru onar ritmik sayarak sayısını yazalım.



Aşağıdaki onar ritmik saymalarda verilemeyen sayıları yazalım.



Aşağıdaki geriye doğru onar ritmik saymalarda verilemeyen sayıları yazalım.



Adı :
Soyadı :
Sınıfı :

Matematik-2

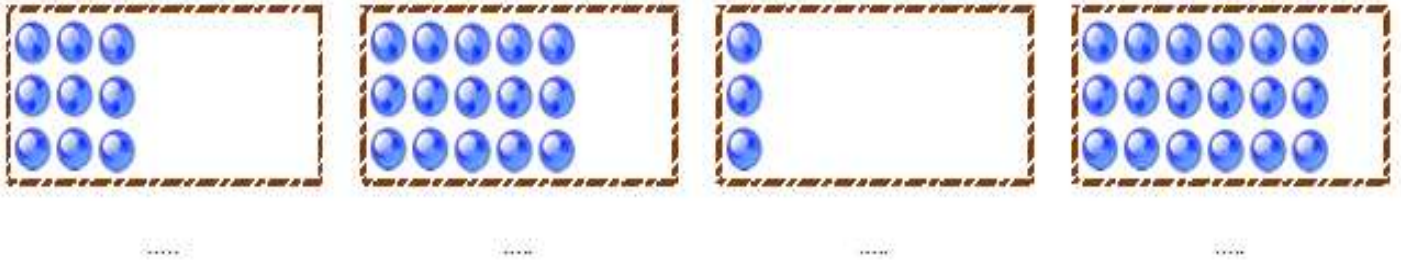
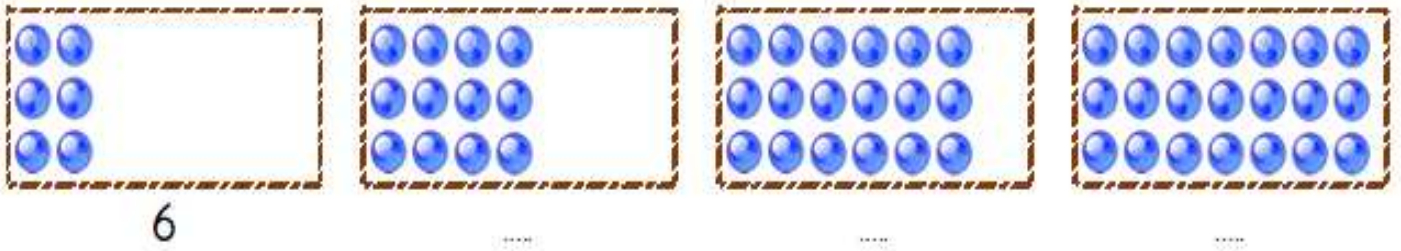
İleriye ve Geriye Ritmik Sayma-5



Aşağıdaki üçgenlerin köşe sayılarını ileriye doğru üçer ritmik sayarak yazalım.



Aşağıdaki kutularda bulunan misketleri üçer ritmik sayalım. Sayılarını altlarına örnekteki gibi yazalım.



Aşağıdaki sayma tablosunda ileriye doğru üçer sayalım. Sayarken söylediğimiz sayıları kırmızıya boyayalım.

1	2	3	4	5	6	7	8	9	10
11	12	13	14	15	16	17	18	19	20
21	22	23	24	25	26	27	28	29	30

Aşağıdaki sayma tablosunda geriye doğru üçer sayalım. Sayarken söylediğimiz sayıları kırmızıya boyayalım.

30	29	28	27	26	25	24	23	22	21
20	19	18	17	16	15	14	13	12	11
10	9	8	7	6	5	4	3	2	1


Adı :
Soyadı :
Sınıfı :

Matematik-2

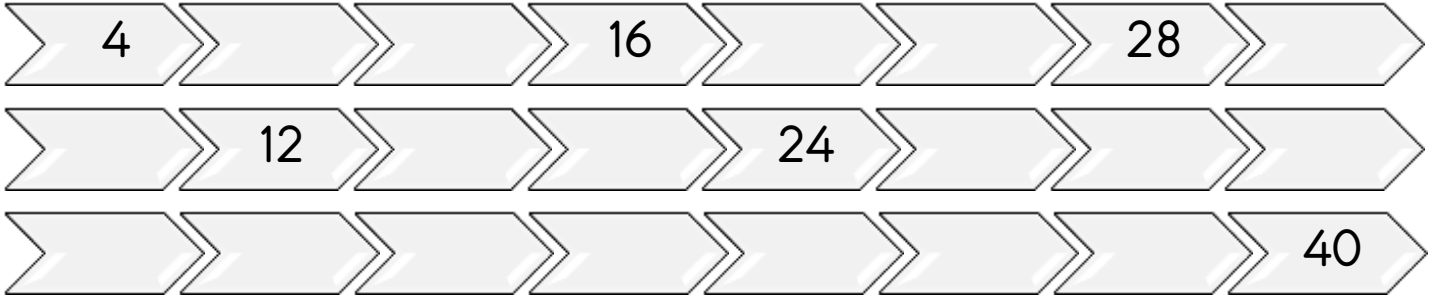
İleriye ve Geriye Ritmik Sayma-6



Aşağıdaki atların ayak sayılarını ileriye doğru dörder ritmik sayarak yazalım.



Aşağıdaki dörder ritmik saymalarda verilemeyen sayıları yazalım.



Aşağıdaki kutularda bulunan topları dörder ritmik sayalım. Sayılarını altlarına örnekteki gibi yazalım.



16



Aşağıdaki sayma tablosunda geriye doğru dörder sayalım. Sayarken söylediğimiz sayıları kırmızıya boyayalım.

40	39	38	37	36	35	34	33	32	31
30	29	28	27	26	25	24	23	22	21
20	19	18	17	16	15	14	13	12	11
10	9	8	7	6	5	4	3	2	1